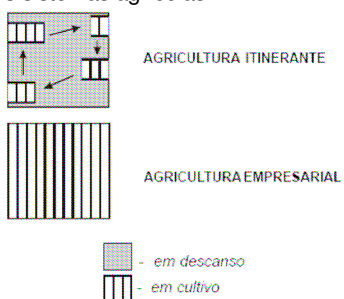


Questões discursivas

1.UFRJ - Os esquemas abaixo representam dois sistemas agrícolas.



Apresente duas características, uma quanto ao uso da terra, outra quanto ao objetivo da produção, para:

a) a agricultura itinerante.


b) a agricultura empresarial.

2.UFRJ - Na Zona Econômica Especial (ZEE) de Pudong, que ocupa 500 km² na costa chinesa, está sendo construído o maior centro financeiro, industrial e comercial do Extremo Oriente. Antes do fim do ano, cerca de cem entidades financeiras da Europa e dos Estados Unidos se somarão às 200 que já operam na ZEE, considerada uma das maiores captadoras de investimentos na Ásia.



Apresente uma vantagem oferecida pelo Estado chinês para atrair capitais transnacionais para Pudong.

3.UFRJ - Essas fotos expressam enfaticamente as diferenças existentes entre as fronteiras dos Estados Unidos da América com os países vizinhos



a) O que representa, para os latino-americanos, a travessia da fronteira dos Estados Unidos?
 b) Explique por que os Estados Unidos têm políticas distintas em suas fronteiras norte e sul.

4.UFRJ - O mapa a seguir destaca as principais áreas urbanas nos estados do Rio de Janeiro e de São Paulo




Adap. de: J. C. Moreira e E. Sene, Geografia Geral do Brasil.

Em 2003, o Estado de São Paulo possuía três regiões metropolitanas (mostradas na tabela a seguir):

Regiões metropolitanas	Data de criação	nº de municípios	Município-sede
São Paulo	8/6/1973	39	São Paulo
Baixada Santista	30/7/1996	9	Santos
Campinas	19/6/2000	19	Campinas

Elabore uma argumentação defendendo a idéia de que há melhores condições para a formação de uma megalópole entre os núcleos urbanos 1, 2 e 3 do que entre os núcleos 2 e 4. Sua argumentação deve se iniciar com a definição de megalópole.



Litografia - Prinz von Preussen Adalbert - 1842

5.UFRJ - A proximidade entre o mar e a montanha, característica do sítio da cidade do Rio de Janeiro, produz belezas cênicas que encantam os cariocas e os viajantes. No entanto, essa proximidade é igualmente responsável por diversos problemas urbanos, enfrentados há tempos pelos habitantes do Rio.

- a) Apresente dois custos que o sítio da cidade do Rio de Janeiro impõe à circulação.
- b) Apresente dois riscos ambientais, associados ao sítio, a que estão sujeitos os moradores do Rio

6.UFRJ - O Complexo do Pantanal é cortado por uma densa rede hidrográfica. Por sua rica biodiversidade foi declarado Reserva da Biosfera pela UNESCO. Muitas das ameaças à integridade ecológica do Pantanal estão nas regiões que o cercam.

Apresente duas atividades praticadas nas regiões circunvizinhas que ameaçam o equilíbrio ecológico do Pantanal. Justifique sua resposta.

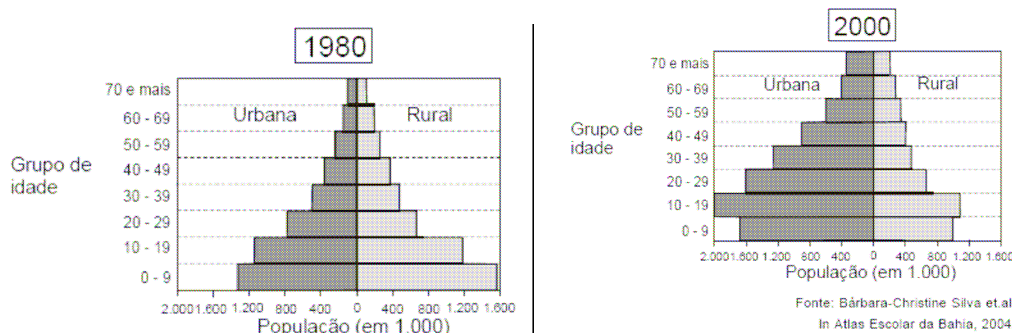
7.UFRJ - **Deu no New York Times!**
Precisamos de uma nova estratégia energética.(...) À época da crise do petróleo de 1973, o Brasil importava quase 80% de sua demanda de petróleo. Após três décadas, essa dependência diminuiu bastante. Hoje a metade dos novos carros vendidos no Brasil rodam com qualquer combinação de gasolina e álcool.(...) Nos Estados Unidos, o máximo de economia conseguido pelos automóveis de Detroit foi 10,6 km por litro de gasolina em 1986 e desde então essa média só vem piorando.(...) Nós preferimos importar petróleo da Arábia Saudita, mas não álcool do Brasil. (05 de agosto de 2005)

Essas frases foram extraídas de um artigo de jornal de grande circulação nos Estados Unidos. Nele, o jornalista faz duras críticas à estratégia norte-americana em relação à sua política energética. Ao mesmo tempo, enaltece as soluções adotadas pelo Brasil.

- a) Qual tem sido a estratégia norte-americana para enfrentar a crise energética mundial?
- b) Quais as alternativas seguidas pelo Brasil para enfrentar essa questão?

8.UFRJ - **As coordenadas geográficas**
Para localizar um ponto em um sistema de coordenadas geográficas não é suficiente indicar os graus em latitude e longitude. É preciso ainda acrescentar as letras N, S, L e O. **Por quê?**

9.UFRJ - Observe as pirâmides etárias da população urbana e rural do Estado da Bahia nos anos de 1980 e 2000:



- a) Identifique uma tendência demográfica quanto à distribuição espacial da população.
- b) Indique o que ocorreu, em termos absolutos e relativos, com a estrutura etária da população baiana.

10.UERJ – No mapa está representado o Furacão Katrina na área do Golfo do México, no final do mês de agosto de 2005.



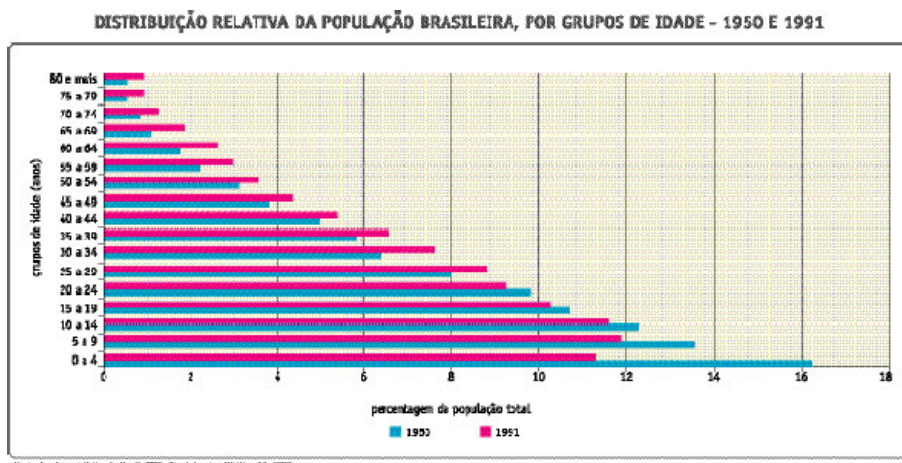
Considerando a dinâmica desse fenômeno na região onde se situa Nova Orleans, indique:

- A) duas atividades econômicas importantes prejudicadas pela passagem do furacão;
- B) duas características socioeconômicas que agravaram as consequências desse fenômeno.

11.UERJ - As agressões ambientais à Baía da Guanabara, de 1500 até os dias de hoje, têm acarretado sérios danos a seus ecossistemas, como representado nos mapas. A partir da análise das transformações observadas nos manguezais, apresente:

- A) dois benefícios decorrentes da sua preservação;
- B) dois fatores que têm levado a sua intensa destruição.

12.UERJ -



Com base nos dados do gráfico, referentes à estrutura etária da população brasileira em 1950 e em 1991, identifique:

- A) uma mudança ocorrida entre esses dois anos e sua respectiva causa;
- B) outra mudança e sua respectiva consequência socioeconômica.

13.UERJ - Florestas de pequenas e ameaçadoras plaquinhas que avisam: “Resposta Armada!” crescem nos gramados cuidadosamente aparados do *West Side* de Los Angeles. Até mesmo os bairros mais ricos se isolam atrás de muros guardados por polícia privada armada e por moderníssimos equipamentos de vigilância eletrônica. Nós vivemos em cidades brutalmente divididas entre “células fortificadas” da sociedade afluyente e “lugares de terror” onde a polícia guerreia contra o pobre criminalizado. (Adaptado de DAVIS, Mike. *Cidade de Quartzos*. São Paulo: Página Aberta, 1993.)

O texto acima descreve um processo socioespacial que também pode ser observado em metrópoles brasileiras, como o Rio de Janeiro. A partir dessa comparação,

- A) identifique esse processo e aponte o fator comum que o desencadeou nas duas cidades;
- B) cite duas ações do Estado que reforçam esse processo na cidade do Rio de Janeiro.

14.UERJ

Desenvolvimento limpo vale ouro

O Brasil começa a despontar num mercado que cresce a um ritmo de 200% ao ano. É a venda de crédito de carbono, negócio criado a partir da entrada em vigor do Protocolo de Kioto, em fevereiro passado. O país já ocupa a segunda posição entre os que mais venderam crédito de carbono, atrás apenas da Índia, e tem cerca de um terço dos projetos na fila para certificação pela Organização das Nações Unidas (ONU).

- A) Indique o objetivo do Protocolo de Kioto e um país industrializado que não tenha ratificado esse acordo internacional.
- B) Aponte uma característica climática do território brasileiro e a vantagem que ela proporciona para o país no mercado internacional de créditos de carbono.